

**School Based Assessment 2021 / GRADE 3 – English**

School Name (EMIS code)											
Tehsil						District					
Student Name						Section					
Roll Number						Date:					

**General Instructions for Students:**

- (1) Use mask and keep 3 feet distance from each other.
- (2) Read carefully and attempt all questions.
- (3) Encircle the correct option of each of Multiple Choice Questions (MCQs) as shown in the example given below.

**Example: He is \_\_\_\_\_ to school**

- (a) goes                      (b) went                      (c) going                      (d) go

- (4) If more than one options are encircled in a question, no mark will be given.

اگر کسی سوال میں ایسے سے زیادہ جوابات کے درجہ کیا گیا ہو تو کوئی نمبر نہیں دیا جائے گا۔

<b>Total Time: 1 hour</b>	<b>(Multiple Choice Questions)</b>	<b>Total Marks: 50</b>
---------------------------	------------------------------------	------------------------

**Instructions:** Twenty five (25) Multiple Choice Questions (MCQs) are given in this paper. Each question carries 2 marks. ہر سوال کے 2 نمبر ہیں۔

- 1. Identify the word which has a digraph**  
(a) Sheep (b) Goat (c) Camel (d) Lion
- 2. Choose the correct option to fill in the blank. "This is \_\_\_\_\_ pen."**  
(a) Salmas (b) Salma's (c) Salmas' (d) Salma,s
- 3. "I visited \_\_\_\_\_ along with my friends in \_\_\_\_\_"**  
(a) Multan, July (b) Multan, july  
(c) multan, July (d) multan, july
- 4. Choose the sign of the exclamation mark.**  
(a) ? (b) . (c) ' (d) !
- 5. Choose the correct punctuation mark to fill in the blank. "Amna likes apples \_\_\_\_\_"**  
(a) ? (b) . (c) , (d) !

- 6. Choose sentence with correct use of question mark.**  
(a) It is raining outside? (b) Where is my book?  
(c) She likes apples? (d) They will not come?
- 7. Choose the question word used in the sentence. "Where are your shoes?"**  
(a) Where (b) Are (c) Your (d) Shoes
- 8. Choose the correct position word seeing the picture. "The ball is \_\_\_\_\_ the table."**



- (a) behind (b) over (c) under (d) beside
- 9. A person who prepares food is called a \_\_\_\_\_.**  
(a) teacher (b) painter (c) doctor (d) cook

**10. "When a man greets another man, he says in a good manner, \_\_\_\_\_".**

- (a) Thanks for your favour.
- (b) Sorry, I got busy.    (c) Nice to meet you.
- (d) Fine, You may go.

**11. Identify the noun in the given sentence.**

**"She helps her brother."**

- (a) She    (b) Helps    (c) Her    (d) Brother

**12. Identify the common noun in the given sentence.**

**"Aslam, Adnan and Sana love their father."**

- (a) Aslam    (b) Adnan    (c) Sana    (d) Father

**13. Identify the pronoun in the given sentence.**

**"She cooks in the kitchen."**

- (a) She    (b) Cooks    (c) In    (d) Kitchen

**14. Identify an adjective in the given sentence.**

**"My cousins worked hard and won the match."**

- (a) Match    (b) Cousins    (c) Won    (d) Hard

**15. Choose the correct word to complete the sentence.**

**"The horse \_\_\_\_\_ drinking water."**

- (a) is    (b) am    (c) are    (d) were

**16. Choose the correct verb form to make simple present sentence.**

**"A bird always \_\_\_\_\_ in the sky."**

- (a) fly    (b) flies    (c) flew    (d) flown

**17. "I \_\_\_\_\_ to the school regularly."**

- (a) go    (b) goes    (c) going    (d) gone

**18. Sara is a girl. \_\_\_\_\_ lives in Lahore.**

- (a) He    (b) She    (c) You    (d) They

**19. Identify verb in the given sentence.**

**"Reading books increase our information."**

- (a) Books    (b) Us
- (c) Increase    (d) Information

**20. Identify the sentence with correct structure.**

- (a) Sits she on the table.
- (b) Sits she the table on.
- (c) The table on She sits.
- (d) She sits on the table.

**21. "The goat is \_\_\_\_\_ grass in the field."**

- (a) graze    (b) grazes    (c) grazing    (d) grazed

**Paragraph: Read the paragraph and answer the questions given below.**

Haris is a good student. He gets up early in the morning. He goes for prayer regularly. He lives in a small village. His father is a farmer. He is very kind to the poor. He helps the needy people. The people like him very much. They always pray for him.

**22. "What is Haris's father?"**

- (a) Cook    (b) Doctor    (c) Farmer    (d) Teacher

**23. A kind person always wants to \_\_\_\_\_ others.**

- (a) advice    (b) teach    (c) support    (d) ignore

**24. Where does Haris go regularly?**

- (a) For Exercise    (b) For Prayer
- (c) In the Fields    (d) To a Market

**25. When does Haris get up?**

- (a) Haris gets up at night.
- (b) Haris gets up at noon.
- (c) Haris gets up in the evening.
- (d) Haris gets up in the morning.

### School Based Assessment 2021 / GRADE 3 – English

School Name (EMIS code)											
Tehsil						District					
Student Name						Section					
Roll Number						Date:					

#### General Instructions for Students:

- (1) Use mask and keep 3 feet distance from each other.
- (2) Read carefully and attempt all questions.
- (3) Encircle the correct option of each of Multiple Choice Questions (MCQs) as shown in the example given below.

**Example: He is \_\_\_\_\_ to school**

(a) goes

(b) went

(c) going

(d) go

- (4) If more than one options are encircled in a question, no mark will be given.

اگر کسی سوال میں ایک سے زیادہ جوابات کے گرد دائرہ لگایا گیا تو کوئی نمبر نہیں دیا جائے گا۔

**Total Time: 1 hour**

**(Multiple Choice Questions)**

**Total Marks: 50**

**Instructions:** Twenty five (25) Multiple Choice Questions (MCQs) are given in this paper. Each question carries 2 marks.

ہدایات: اس پیپر میں پچیس (25) کثیر الانتخابی سوالات دیے گئے ہیں۔ ہر سوال کے 2 نمبر ہیں۔

**1. Choose the word having a trigraph.**

- (a) Girl    (b) Study    (c) Watch    (d) Window

**2. Identify the correct sentence from the following.**

- (a) Akrams' home is beautiful.  
 (b) Qasim's home is colorful.  
 (c) The home of Aslams is big.  
 (d) Haiders" home is small.

**3. Identify the correctly capitalized sentence.**

- (a) He Is watching Television.  
 (b) He is watching television.  
 (c) he is Watching Television.  
 (d) He is Watching television.

**4. Complete the sentence with correct use of punctuation mark.**

**"Wow \_\_\_\_\_ It is a beautiful watch."**

- (a) !    (b) ,    (c) ?    (d) .

**5. Choose the correct punctuation mark to fill in the blank. "I have a dog \_\_\_\_\_"**

- (a) .    (b) ?    (c) ,    (d) !

**6. Choose the correct punctuation mark to fill in the blank.**

**"When do you go to school \_\_\_\_\_"**

- (a) ?    (b) .    (c) ,    (d) !

**7. Identify the question word used in the sentence. "What are you doing here?"**

- (a) What    (b) You    (c) Doing    (d) Here

**8. Fill in the blank with the help of picture.**

**"The dog is standing \_\_\_\_\_ the table."**



- (a) in    (b) on    (c) into    (d) under

**9. Identify the pronoun in the given sentence.**

**"Aslam and Akram do their homework regularly."**

- (a) Aslam (b) Akram  
(c) Their (d) Homework

**10. "When your friend gives you a pen, what will you say in return?"**

- (a) Welcome. (b) Thank you.  
(c) Nice to meet you (d) Hi! How are you?

**11. Identify the proper noun in the given sentence. "Ali washes his hands with soap."**

- (a) Ali (b) Washes (c) Hands (d) With

**12. Identify the proper noun.**

- (a) Lahore (b) Garden  
(c) School (d) Canteen

**13. Identify the correct pronoun to fill in the blank. "Tahir is a football player. \_\_\_\_\_ plays football so well."**

- (a) She (b) They (c) He (d) You

**14. Identify the adjective in the sentence. "It is a beautiful rose".**

- (a) It (b) rose (c) beautiful (d) is

**15. Choose the correct helping verb to complete the sentence.**

**"Aslam \_\_\_\_\_ writing a letter."**

- (a) is (b) are (c) am (d) were

**16. Choose the correct verb form to make simple present sentence.**

**"My parents always \_\_\_\_\_ me."**

- (a) helps (b) help (c) helped (d) helping

**17. Choose the sentence of past tense.**

- (a) He goes to school. (b) He went to school.  
(c) He is going to school.  
(d) He has gone to school.

**18. Identify pronoun from the options.**

- (a) We (b) Saira (c) Try (d) Clock

**19. Identify Verb.**

- (a) Bread (b) Pencil (c) Sleep (d) House

**20. Choose the sentence with correct arrangement.**

- (a) School goes to Ali. (b) Ali goes to school.  
(c) Goes to Ali School. (d) To goes School Ali.

**21. "Look up there! The birds are \_\_\_\_\_."**

- (a) fly (b) flew (c) flying (d) flies

**Paragraph: Read the paragraph and answer the questions given below.**

We live in a small village. My father works for the family. My mother cooks tasty food. I always help my mother. They take care of me. I love my family. We are happy family.

**22. Where does the family live?**

- (a) In a big city (b) In a small village  
(c) In a town (d) In a big village

**23. Who cooks food?**

- (a) Mother (b) Father (c) Sister (d) Brother

**24. How does the family live?**

- (a) Sad (b) Lazy (c) Busy (d) Happily

**25. The word "tasty" means:**

- (a) Clean (b) Spicy  
(c) Delicious (d) Dirty

## School Based Assessment 2021 / GRADE 3 – Mathematics

School Name (EMIS code)			
Tehsil		District	
Student Name			Section
Roll Number			Date:

## General Instructions for Students:

عمومی ہدایات:

- Use mask and keep 3 feet distance from each other.
- Read carefully and attempt all questions.
- Encircle the correct option of each of Multiple Choice Questions (MCQs) as shown in the example given below.

ماسک کا استعمال کریں اور 3 فٹ کا فاصلہ رکھیے۔

غور سے پڑھیں اور ہر سوال کا جواب دیں۔

ہر کثیر الانتخابی سوال کے صحیح جواب پر دائرہ لگائیں جیسا کہ نیچے دی گئی مثال میں دکھایا گیا ہے۔

Example:  $64 \div 8 = \underline{\hspace{2cm}}$ :

(a) 4

(b) 6

(c) 8

(d) 12

- If more than one options are encircled in a question, no mark will be given.

اگر کسی سوال میں ایک سے زیادہ جوابات کے گرد دائرہ لگایا گیا تو کوئی نمبر نہیں دیا جائے گا۔

Total Time: 1 hour

(Multiple Choice Questions)

Total Marks: 50

Instructions: Twenty five (25) Multiple Choice Questions (MCQs) are given in this paper. Each question carries 2 marks.

ہدایات: اس پیپر میں پچیس (25) کثیر الانتخابی سوالات دیے گئے ہیں۔ ہر سوال کے 2 نمبر ہیں۔

1. One hundred fifteen thousand, and fifteen in numerals is:

ایک سو پندرہ ہزار پندرہ ہندسوں میں ہے:

(a) 115,15

(b) 115,015

(c) 115,115

(d) 115,0115

2. The Correct sign ( $<$ ,  $>$ ,  $=$ ,  $\geq$ ) between the given numbers is: 512  780

دیے گئے اعداد کے درمیان ( $<$ ,  $>$ ,  $=$ ,  $\geq$  میں سے) درست علامت512  780 ہے:(a)  $<$ (b)  $>$ (c)  $=$ (d)  $\geq$ 

3. The ascending order of numbers is:

اعداد کی صعودی ترتیب ہے:

(a) 203,792,453,674

(b) 792,203,453,674

(c) 792,453,674,203

(d) 203,453,674,792

4. The descending order of numbers is:

اعداد کی نزولی ترتیب ہے:

(a) 793,683,811,122

(b) 83, 122, 811, 793

(c) 811,793,683,122

(d) 122,793,683,811

5.  $67 + 14 = \underline{\hspace{2cm}}$ :

(a) 14

(b) 53

(c) 71

(d) 81

6. There are 30 apples and 40 oranges in Ahmad's basket. The fruits altogether are:

احمد کی ٹوکری میں 30 سیب اور 40 مالٹے ہیں۔ دونوں قسم کے پھلوں کی کل تعداد ہے:

(a) 10

(b) 30

(c) 40

(d) 70

7.  $74 - 18 = \underline{\hspace{2cm}}$ :

(a) 56

(b) 66

(c) 82

(d) 92

8.  +  +  =

(a) 3

(b) 6

(c) 9

(d) 12

9.  $0 \times 7 = \underline{\hspace{2cm}}$ :

(a) 0

(b) 1

(c) 7

(d) 70

10.  $56 \div 7 = \underline{\hspace{2cm}}$ :

(a) 6

(b) 7

(c) 8

(d) 9

11. There are 32 balloons, each child gets 4 balloons. The number of children is:

32 غبارے ہیں۔ ہر بچے کو 4 غبارے ملتے ہیں۔ بچوں کی تعداد ہے:

- (a) 4 (b) 6 (c) 8 (d) 10

12. The coloured part of the circle is:



دائرے کا رنگ دار حصہ ہے:

- (a)  $\frac{1}{4}$  (b)  $\frac{2}{4}$  (c)  $\frac{3}{4}$  (d)  $\frac{1}{3}$

13.  $\frac{5}{8} - \frac{2}{8}$

- (a)  $\frac{1}{8}$  (b)  $\frac{2}{8}$  (c)  $\frac{3}{8}$  (d)  $\frac{5}{8}$

14. Which of the following figures show equivalent fractions?

مندرجہ ذیل میں سے کونسی اشکال مترادف کسور کو ظاہر کرتی ہیں؟

- (a) (b) (c) (d)

15. 12 km کلومیٹر + 29 km کلومیٹر = \_\_\_\_\_:

- (a) 12 km کلومیٹر (b) 17 km کلومیٹر  
(c) 39 km کلومیٹر (d) 41 km کلومیٹر

16. 12 cm سینٹی میٹر + 48 cm سینٹی میٹر = \_\_\_\_\_:

- (a) 30 cm سینٹی میٹر (b) 36 cm سینٹی میٹر  
(c) 50 cm سینٹی میٹر (d) 60 cm سینٹی میٹر

17. 54 g گرام - 42 g گرام = \_\_\_\_\_:

- (a) 12 g گرام (b) 22 g گرام  
(c) 32 g گرام (d) 42 g گرام

18. 29 ml ملی لیٹر + 16 ml ملی لیٹر = \_\_\_\_\_:

- (a) 35 ml ملی لیٹر (b) 45 ml ملی لیٹر  
(c) 55 ml ملی لیٹر (d) 65 ml ملی لیٹر

19. 47 L لیٹر - 25 L لیٹر = \_\_\_\_\_:

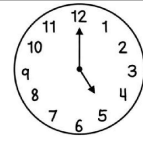
- (a) 12 L لیٹر (b) 22 L لیٹر  
(c) 32 L لیٹر (d) 42 L لیٹر

20. Ali bought 46m long pipe. Atif bought 18m long pipe. The total length of both pipes is:

علی نے 46 میٹر لمبا پائپ خریدا۔ عاتف نے 18 میٹر لمبا پائپ خریدا۔ دونوں پائپوں کے کل لمبائی کی کل لمبائی ہے:

- (a) 28 m میٹر (b) 38 m میٹر  
(c) 54 m میٹر (d) 64 m میٹر

21. The time on the clock given below is:



نیچے دیے گئے کلاک پر وقت ہے:

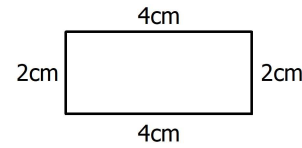
- (a) 5:00 (b) 5:12 (c) 12:00 (d) 12:25

22. From the following clocks which clock shows the time 8:10?

درج ذیل میں سے کون سا کلاک وقت 8:10 کو ظاہر کرتا ہے؟

- (a) (b) (c) (d)

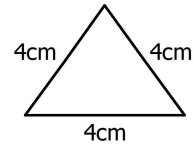
23. Perimeter of given rectangle is:



دی گئی مستطیل کا احاطہ ہے:

- (a) 4 cm سینٹی میٹر (b) 8 cm سینٹی میٹر  
(c) 12 cm سینٹی میٹر (d) 16 cm سینٹی میٹر

24. Perimeter of given triangle is:



دی گئی مثلث کا احاطہ ہے:

- (a) 3 cm سینٹی میٹر (b) 4 cm سینٹی میٹر  
(c) 12 cm سینٹی میٹر (d) 16 cm سینٹی میٹر

25. The picture graph shows the number of books that each child has. The number of books Haris has:

دیا گیا تصویری گراف بچوں کے پاس کتابوں کی تعداد کو ظاہر کرتا ہے۔ حارث کے پاس کتابوں کی تعداد ہے۔

Ahmad احمد	Haris حارث	Sana ثنا	Anum انعم

- (a) 3 (b) 4 (c) 5 (d) 6

## School Based Assessment 2021 / GRADE 3 – Mathematics

School Name (EMIS code)			
Tehsil		District	
Student Name			Section
Roll Number			Date:

## General Instructions for Students:

عمومی ہدایات:

- Use mask and keep 3 feet distance from each other.
- Read carefully and attempt all questions.
- Encircle the correct option of each of Multiple Choice Questions (MCQs) as shown in the example given below.

ماسک کا استعمال کریں اور 3 فٹ کا فاصلہ رکھیے۔  
غور سے پڑھیں اور ہر سوال کا جواب دیں۔

ہر کثیر الانتخابی سوال کے صحیح جواب پر دائرہ لگائیں جیسا کہ نیچے دی گئی مثال میں دکھایا گیا ہے۔

Example:  $64 \div 8 = \underline{\hspace{2cm}}$ :

(a) 4

(b) 6

(c) 8

(d) 12

- If more than one options are encircled in a question, no mark will be given.

اگر کسی سوال میں ایک سے زیادہ جوابات کے گرد دائرہ لگایا گیا تو کوئی نمبر نہیں دیا جائے گا۔

Total Time: 1 hour

(Multiple Choice Questions)

Total Marks: 50

Instructions: Twenty five (25) Multiple Choice Questions (MCQs) are given in this paper. Each question carries 2 marks.

ہدایات: اس پیپر میں پچیس (25) کثیر الانتخابی سوالات دیے گئے ہیں۔ ہر سوال کے 2 نمبر ہیں۔

1. One hundred forty nine thousand, and two in numerals is:

ایک سو اسی ہزار دو ہندسوں میں ہے:

- (a) 149,2 (b) 149,02  
(c) 149,002 (d) 149,020

2. The Correct sign ( $<$ ,  $>$ ,  $=$ ,  $\geq$ ) between the given numbers is: 335  555

دیے گئے اعداد کے درمیان ( $<$ ,  $>$ ,  $=$ ,  $\geq$  میں سے) درست علامت ہے:

335  555

- (a)  $<$  (b)  $>$  (c)  $=$  (d)  $\geq$

3. The ascending order of numbers is:

اعداد کی صعودی ترتیب ہے:

- (a) 892, 253, 774, 303 (b) 253, 303, 774, 892  
(c) 774, 303, 253, 892 (d) 303, 253, 774, 892

4. The descending order of numbers is:

اعداد کی نزولی ترتیب ہے:

- (a) 915, 579, 801, 415 (b) 915, 801, 415, 579  
(c) 915, 801, 579, 415 (d) 915, 415, 801, 579

5.  $54 + 16 = \underline{\hspace{2cm}}$ :

- (a) 38 (b) 44 (c) 60 (d) 70





6. There are 25 boys and 20 girls in a class. The total number of students in the class is:

ایک جماعت میں 25 لڑکے اور 20 لڑکیاں ہیں۔ اس جماعت میں طلباء کی کل تعداد ہے:

- (a) 5 (b) 20 (c) 25 (d) 45

7.  $543 - 68 = \underline{\hspace{2cm}}$ :

- (a) 475 (b) 485 (c) 575 (d) 585

8.  +  +  +  =

- (a) 4 (b) 8 (c) 12 (d) 16

9.  $0 \times 9 = \underline{\hspace{2cm}}$ :

- (a) 0 (b) 1 (c) 9 (d) 90

10.  $40 \div 5 = \underline{\hspace{2cm}}$ :

- (a) 5 (b) 6 (c) 7 (d) 8

11. There are 45 balloons. Each child gets 5 balloons. The number of children is:

45 غبارے ہیں۔ ہر بچے کو 5 غبارے ملتے ہیں۔ بچوں کی تعداد ہے:

- (a) 6 (b) 7 (c) 8 (d) 9

12. The coloured part of the circle is:



مربع کارنگ دار حصہ ہے:

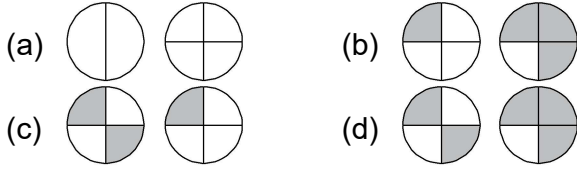
- (a)  $\frac{1}{2}$  (b)  $\frac{1}{4}$  (c)  $\frac{3}{4}$  (d)  $\frac{1}{3}$

13.  $\frac{9}{17} - \frac{6}{17} =$

- (a)  $\frac{2}{17}$  (b)  $\frac{3}{17}$  (c)  $\frac{6}{17}$  (d)  $\frac{9}{17}$

14. Which of the following figures show equivalent fractions?

مندرجہ ذیل میں سے کونسی اشکال متبادل کسور کو ظاہر کرتی ہیں؟



15. 17 km کلومیٹر + 35 km کلومیٹر = \_\_\_\_\_:

- (a) 17 km کلومیٹر (b) 42 km کلومیٹر  
(c) 52 km کلومیٹر (d) 62 km کلومیٹر

16. 46 cm سینٹی میٹر + 87 cm سینٹی میٹر = \_\_\_\_\_:

- (a) 103 cm سینٹی میٹر (b) 113 cm سینٹی میٹر  
(c) 123 cm سینٹی میٹر (d) 133 cm سینٹی میٹر

17. 56 g گرام - 44 g گرام = \_\_\_\_\_:

- (a) 12 g گرام (b) 44 g گرام  
(c) 56 g گرام (d) 100 g گرام

18. 81 ml ملی لیٹر - 64 ml ملی لیٹر = \_\_\_\_\_:

- (a) 17 ml ملی لیٹر (b) 19 ml ملی لیٹر  
(c) 21 ml ملی لیٹر (d) 27 ml ملی لیٹر

19. 71 L لیٹر - 54 L لیٹر = \_\_\_\_\_:

- (a) 17 L لیٹر (b) 25 L لیٹر  
(c) 105 L لیٹر (d) 115 L لیٹر

20. Shabbir bought 37m long pipe. Atif bought 17m long pipe. The total length of both pipes is:

شہیر نے 37 میٹر لمبا پائپ خریدا۔ عاتف نے 17 میٹر لمبا پائپ خریدا۔ دونوں پائپوں کے کل لمبائی ہے:

- (a) 20 m میٹر (b) 47 m میٹر  
(c) 44 m میٹر (d) 54 m میٹر

21. The time on the clock given below is:

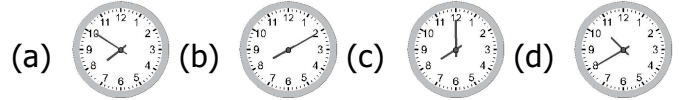


نیچے دیے گئے کلاک پر وقت ہے:

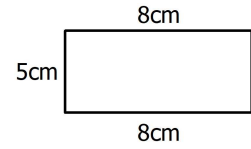
- (a) 2:00 (b) 6:00 (c) 12:00 (d) 12:10

22. From the following clocks which clock shows the time 7:50?

درج ذیل میں سے کون سا کلاک وقت 7:50 کو ظاہر کرتا ہے؟



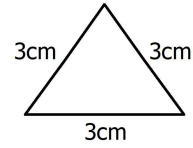
23. Perimeter of given rectangle is:



دی گئی مستطیل کا احاطہ ہے:

- (a) 13 cm سینٹی میٹر (b) 25 cm سینٹی میٹر  
(c) 26 cm سینٹی میٹر (d) 40 cm سینٹی میٹر

24. Perimeter of given triangle is:



دی گئی مثلث کا احاطہ ہے:

- (a) 3 cm سینٹی میٹر (b) 6 cm سینٹی میٹر  
(c) 9 cm سینٹی میٹر (d) 12 cm سینٹی میٹر

25. The picture graph shows the number of books that each child has. The number of books Sana has:

دیا گیا تصویری گراف بچوں کے پاس کتابوں کی تعداد کو ظاہر کرتا ہے۔ ثنا کے پاس کتابوں کی تعداد ہے:

Ahmad احمد	Haris حارث	Sana ثنا	Anum انعم

- (a) 3 (b) 4 (c) 5 (d) 6



## School Based Assessment 2021 / GRADE 3 – General Knowledge

School Name (EMIS code)			
Tehsil		District	
Student Name			Section
Roll Number			Date:

## General Instructions for Students:

عمومی ہدایات:

- Use mask and keep 3 feet distance from each other.
- Read carefully and attempt all questions.
- Encircle the correct option of each of Multiple Choice Questions (MCQs) as shown in the example given below.

ماسک کا استعمال کریں اور 3 فٹ کا فاصلہ رکھیے۔

غور سے پڑھیں اور ہر سوال کا جواب دیں۔

ہر کثیر الانتخابی سوال کے صحیح جواب پر دائرہ لگائیں جیسا کہ نیچے دی گئی مثال میں دکھایا گیا ہے۔

## Example: Covid-19 is caused by:

- (a) bacteria بیکیٹیریا (b) fungi فنجائی (c) virus وائرس (d) algae الچی
- (4) If more than one options are encircled in a question, no mark will be given.

اگر کسی سوال میں ایک سے زیادہ جوابات کے گرد دائرہ لگایا گیا تو کوئی نمبر نہیں دیا جائے گا۔

Total Time: 1 hour

(Multiple Choice Questions)





Total Marks: 50

Instructions: Twenty five (25) Multiple Choice Questions (MCQs) are given in this paper. Each question carries 2 marks.

ہدایات: اس پیپر میں پچیس (25) کثیر الانتخابی سوالات دیے گئے ہیں۔ ہر سوال کے 2 نمبر ہیں۔

1. Identify the animal which is found in deserts.

صحرا میں پائے جانے والے جانور کی نشاندہی کریں۔

- (a)  (b)  (c)  (d) 

2. Identify the animal that lives in forest.

جنگل میں رہنے والے جانور کی نشاندہی کریں۔

- (a)  (b)  (c)  (d) 

3. Which of the following is necessary to sustain life on earth?

مندرجہ ذیل میں سے کیا چیز زمین پر زندگی کے لیے لازمی ہے؟

- (a) electric bulb بجلی والا بلب (b) stars light ستاروں کی روشنی  
(c) moon light چاند کی روشنی (d) sunlight سورج کی روشنی

4. A seed grows into a/an:

بیج نشوونما پا کر بنتا ہے:

- (a) plant پودا (b) housefly مکھی  
(c) butterfly تتلی (d) frog مینڈک





5. How long does it take for a hen to hatch an egg?

مرغی کو انڈے سینے کے لیے کتنا وقت درکار ہوتا ہے؟

- (a) 20 days دن 20 (b) 21 days دن 21  
(c) 22 days دن 22 (d) 23 days دن 23

6. Identify the human resource from the following.

نیچے دی گئی تصاویر میں سے انسانی وسائل کا انتخاب کریں۔

- (a)  (b)  (c)  (d) 

7. Identify the resources which are defined as the skills and abilities of a person.

ان وسائل کی شناخت کریں جن میں کسی شخص کے کام کرنے کی مہارت اور قابلیت ہو۔

- (a) human resources انسانی وسائل  
(b) capital resources سرمائے کے وسائل  
(c) natural resources قدرتی وسائل  
(d) economic resources معاشی وسائل

8. Skilled labor is a part of:

مندرجہ ذیل میں سے ماہر کاریگر کون سے وسائل کا حصہ ہیں؟

- (a) capital resource سرمائے کے وسائل  
(b) water resource پانی کے وسائل  
(c) natural resource قدرتی وسائل  
(d) human resource انسانی وسائل

9. Identify the endangered animals of Pakistan from the following.

مندرجہ ذیل میں سے پاکستان میں خطرے سے دوچار جانوروں کی نشاندہی کریں۔

- (a) Partridge, Dinosaur تیر، ڈائناسار  
 (b) Markhor, Dinosaur مارخور، ڈائناسار  
 (c) Markhor, Chakor مارخور، چکور  
 (d) Panda, Dinosaur پانڈا، ڈائناسار

**10. How we can save our natural resources for future generation?**

ہم آئندہ آنے والی نسلوں کے لیے اپنے قدرتی وسائل کو کیسے بچا سکتے ہیں؟

- (a) by violation of rules قوانین کی خلاف ورزی کر کے  
 (b) by cutting tress درخت کاٹ کر  
 (c) by saving water پانی بچا کر  
 (d) by setting factories in cities شہروں میں فیکٹریاں لگا کر

**11. Which of the following human activity badly affects habitat of wild life?**

مندرجہ ذیل میں سے کون سی انسانی سرگرمی جنگلی حیات کے مسکن پر برا اثر ڈالتی ہے؟

- (a) deforestation جنگلات کی کٹائی  
 (b) reforestation دوبارہ جنگلات کا اگانا  
 (c) plantation شجر کاری  
 (d) gardening باغبانی

**12. Which of the following activity is essential for good physical health?**

مندرجہ ذیل میں سے کون سی سرگرمی اچھی صحت کے لیے ضروری ہے؟

- (a) Listening music گانے سننا  
 (b) Flying kite پتنگ اڑانا  
 (c) Doing exercise ورزش کرنا  
 (d) Watching TV ٹی وی دیکھنا

**13. From the following images identify the animal which has long, sharp and pointed teeth. دی گئی تصاویر میں سے لمبے، تیز اور نوکیلے دانتوں والے جانور کی شناخت کریں۔**

- (a)  (b)  (c)  (d) 

**14. Rabbits are known as herbivore because they eat:**

خرگوش کو سبزی خور اس لیے کہا جاتا ہے کیوں کہ وہ کھاتے ہیں:

- (a) meat گوشت (b) vegetables سبزیاں  
 (c) insects کیڑے (d) animals جانور

**15. To maintain balance diet, what we should eat less from the following?**

متوازن غذا کے لیے ہمیں درج ذیل میں سے کیا کم کھانا چاہیے؟

- (a) fats چکنائی (b) rice چاول  
 (c) wheat گندم (d) bread روٹی

**16. Identify the invention of Alexander Graham Bell.**

ایلیگزینڈر گراہم بیل کی ایجاد کی شناخت کریں۔

- (a)  (b)  (c)  (d) 

**17. How do inventors make our lives easier?**

موجد کیسے ہماری زندگی آسان بناتے ہیں؟

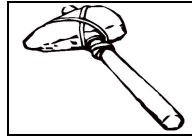
- (a) by making food کھانا بنا کر  
 (b) by making drinks مشروبات بنا کر  
 (c) by making new things نئی چیزیں بنا کر  
 (d) by destroying things چیزیں خراب کر کے

**18. One who invent something new is called:**

کوئی نئی چیز ایجاد کرنے والے کو کہتے ہیں:

- (a) artist آرٹسٹ (b) teacher استاد  
 (c) inventor موجد (d) mechanic مکینک

**19. What is the use of tool shown in the picture?**







تصویر میں دکھائے گئے ٹول کو کس مقصد کے لیے استعمال کیا جاتا ہے؟





- (a) drawing ڈرائنگ (b) cutting کاٹنے  
 (c) writing لکھنے (d) grinding سینے

**20. Identify the machine which is used for digging?**

کھدائی کے لیے کون سی مشین استعمال ہوتی ہے؟

- (a)  (b)  (c)  (d) 

**21. Which of the following tools is used to cut the wood?**

- درج ذیل میں سے کون سا اوزار لکڑی کاٹنے کے لیے استعمال ہوتا ہے؟
- (a)  (b)  (c)  (d) 

**22. The invention which has made our life faster is:**

وہ کون سی ایجاد ہے جس نے ہماری زندگی کو تیز بنا دیا ہے؟

- (a) thermometer تھرمامیٹر (b) bull cart بیل گاڑی  
 (c) computer کمپیوٹر (d) radio ریڈیو

**23. Which of the following solves the public problems?**

درج ذیل میں سے لوگوں کے مسائل کو حل کرتا ہے؟

- (a) businessman بزنس مین (b) government حکومت  
 (c) engineer انجینئر (d) teacher استاد

**24. Identify the activity that people perform to meet their needs.**

اس سرگرمی کی نشاندہی کریں جو لوگ اپنی ضروریات کو پورا کرنے کے لیے انجام دیتے ہیں۔

- (a) street cleaning محلے کی صفائی (b) playing کھیلنا  
 (c) celebrating جشن منانا (d) flying kites پتنگ اڑانا

**25. Why should we respect the religious festivals of other religions?**

ہمیں دوسرے مذاہب کے مذہبی تہواروں کا احترام کیوں کرنا چاہیے؟

- (a) to create hate نفرت پیدا کرنے کے لیے  
 (b) to create love محبت پیدا کرنے کے لیے  
 (c) to create anger غصہ پیدا کرنے کے لیے  
 (d) to create mistrust بے یقینی پیدا کرنے کے لیے

## School Based Assessment 2021 / GRADE 3 – General Knowledge

School Name (EMIS code)			
Tehsil		District	
Student Name			Section
Roll Number			Date:

## General Instructions for Students:

عمومی ہدایات:

- Use mask and keep 3 feet distance from each other.
- Read carefully and attempt all questions.
- Encircle the correct option of each of Multiple Choice Questions (MCQs) as shown in the example given below.

ماسک کا استعمال کریں اور 3 فٹ کا فاصلہ رکھیے۔  
غور سے پڑھیں اور ہر سوال کا جواب دیں۔

ہر کثیر الانتخابی سوال کے صحیح جواب پر دائرہ لگائیں جیسا کہ نیچے دی گئی مثال میں دکھایا گیا ہے۔

## Example: Covid-19 is caused by:

- (a) bacteria بیکیٹیریا (b) fungi فنجائی (c) virus وائرس (d) algae الچی
- (4) If more than one options are encircled in a question, no mark will be given.  
اگر کسی سوال میں ایک سے زیادہ جوابات کے گرد دائرہ لگایا گیا تو کوئی نمبر نہیں دیا جائے گا۔

Total Time: 1 hour

(Multiple Choice Questions)





Total Marks: 50

**Instructions:** Twenty five (25) Multiple Choice Questions (MCQs) are given in this paper. Each question carries 2 marks.

ہدایات: اس پیپر میں پچیس (25) کثیر الانتخابی سوالات دیے گئے ہیں۔ ہر سوال کے 2 نمبر ہیں۔

1. Identify the animal which lives and breathes in water.

اس جانور کی شناخت کریں جو پانی میں رہتا اور سانس لیتا ہے۔

- (a)  (b)  (c)  (d) 

2. Which of the following protects polar bear and wolf from cold?

مندرجہ ذیل میں سے کیا چیز برفانی رچھ اور بھیڑیے کو سردی سے بچاتی ہے؟

- (a) white skin سفید کھال (b) thin skin پتلی کھال  
(c) thick skin موٹی کھال (d) dark skin سیاہ کھال

3. Cactus plant can store water for many days. It is found in:

تھوہر کا پودا کئی دن تک پانی جمع کر سکتا ہے۔ یہ کہاں پایا جاتا ہے؟

- (a) snow برف میں (b) forest جنگل میں  
(c) desert صحرائیں (d) water پانی میں

4. Identify the chick from the following.

درج ذیل سے مرغی کے بچے کی شناخت کریں۔

- (a)  (b)  (c)  (d) 





5. The offspring of a hen is called.

مرغی کے بچے کو کیا کہتے ہیں؟

- (a) chick چوزا (b) calf بچھڑا  
(c) tadpole ٹیڈ پول (d) puppy بلونگڑا

6. Identify which of the following is a human resource.

درج ذیل میں سے انسانی وسائل کی شناخت کریں۔

- (a)  (b)  (c)  (d) 

7. Which type of resource are the mountains?

پہاڑوں سے وسائل کی قسم ہیں؟

- (a) capital resource سرمائے کے وسائل  
(b) water resource پانی کے وسائل  
(c) natural resource قدرتی وسائل  
(d) human resource انسانی وسائل

8. Identify the type of resource of mason from following.

مندرجہ ذیل میں سے اس وسیلہ کا انتخاب کریں جس میں مزدور شامل ہیں۔

- (a) natural resource قدرتی وسائل  
(b) human resource انسانی وسائل  
(c) capital resource سرمائے کے وسائل  
(d) water resource پانی کے وسائل

9. Which of the following is a main cause of

famine in an area? درج ذیل میں سے کسی علاقے میں قحط کی وجہ کون سی ہے؟

- (a) shortage of light روشنی کی کمی  
 (b) shortage of air ہوا کی کمی  
 (c) shortage of minerals معدنیات کی کمی  
 (d) shortage of water پانی کی کمی

10. Shortage of minerals like gas, oil and coal causes shortage of :

معدنیات مثلاً گیس، آئل اور کوئلہ کی کمی سے ----- کا بحران پیدا ہوتا ہے:

- (a) air ہوا (b) soil مٹی  
 (c) energy توانائی (d) water پانی

11. Identify the bad effects of human development on natural environment.

انسانی ترقی سے قدرتی ماحول میں ہونے والے برے اثرات کی شناخت کریں:

- (a) cutting of forests جنگلات کا کٹنا  
 (b) chirping of birds پرندوں کا چہچہانا  
 (c) blooming of flowers پھولوں کا کھلنا  
 (d) falling of rain بارش کا برسنا

12. Which type of teeth can tear meat of animals? کون سے قسم کے دانت جانوروں کے گوشت کو چیر پھاڑ سکتے ہیں؟

- (a)  (b)  (c)  (d) 


13. Identify the group from which the animal shown in image belongs.



تصویر میں دکھائے گئے جانور کے گروپ کی شناخت کریں۔

- (a) fruit eater پھل خور (b) carnivores گوشت خور  
 (c) omnivore ہمہ خور (d) herbivore سبزی خور

14. The animal shown in image belongs to which of the following group? shown in image belongs.



تصویر میں دکھایا گیا جانور درج ذیل کس گروہ سے تعلق رکھتا ہے؟

- (a) fruit eater پھل خور (b) carnivores گوشت خور  
 (c) omnivore ہمہ خور (d) decomposers تحلیل کنندگان

15. Six to eight hours sleep is essential for good:

اچھی ----- کے لیے چھ سے آٹھ گھنٹے سونا ضروری ہے:

- (a) wealth دولت (b) health صحت  
 (c) writing لکھائی (d) reading پڑھائی

16. Choose Pascal's invention from the following.

مندرجہ ذیل میں سے پاسکل کی ایجاد کو منتخب کریں:


- (a) calculator کیلکولیٹر (b) telephone ٹیلیفون  
 (c) bulb بلب (d) radio ریڈیو

17. Which invention has improved the farming?

کس ایجاد سے کھیتی باڑی میں بہتری آئی ہے؟

- (a) bulb بلب (b) tractor ٹریکٹر  
 (c) aeroplane ہوائی جہاز (d) radio ریڈیو

18. Who invented the bulb?



بلب کس نے ایجاد کیا؟

- (a) Edison ایڈیسن (b) Graham bell گراہم بیل  
 (c) Wright brothers رائٹ برادران  
 (d) Marconi مارکونی

19. Which of the following inventions is used for sending images and messages?

درج ذیل میں سے کون سی ایجاد تصاویر اور پیغام رسانی کے لیے استعمال ہوتی ہے؟

- (a)  (b)  (c)  (d) 

20. Which machine is used for lifting heavy stones? بھاری پتھر اٹھانے کے لیے استعمال ہونے والی مشین کا انتخاب کریں۔

- (a) crane کرین (b) shovel بیلچہ  
 (c) hammer ہتھوڑا (d) screw jack سکر یو جیک

21. Why did ancient people make pointed tools?



قدیم لوگ نوک دار اوزار کیوں بناتے تھے؟

- (a) for playing لہانے کے لیے (b) for hunting شکار کے لیے  
 (c) for dancing ناچنے کے لیے (d) for magic جادو کے لیے

22. Pointed stones were used for which purpose in ancient times?

نوک دار پتھر قدیم زمانے میں کس مقصد کے لیے استعمال کیے جاتے تھے؟

- (a) for pulling کھینچنے کے لیے (b) for hunting شکار کے لیے  
 (c) for pushing دھکیلنے کے لیے (d) for transportation نقل و حمل کے لیے

23. Which of the following is the main cause of illiteracy? درج ذیل میں سے تعلیم کی کمی کی سب سے بڑی وجہ کون سی ہے؟

- (a) poverty غربت  
 (b) over population آبادی میں اضافہ  
 (c) corruption بدعنوانی (d) democracy جمہوریت

24. Which of the following is the responsibility of the government to provide to the people?

درج ذیل میں سے کون سی چیز فراہم کرنا حکومت کی ذمہ داری ہے؟

- (a) mobile موبائل (b) car کار  
 (c) motor cycle موٹر سائیکل (d) hospitals ہسپتال

25. Which of the following is NOT a good citizen? مندرجہ ذیل میں سے کونسا اچھا شہری نہیں ہے؟

- (a)  (b)  (c)  (d) 

## School Based Assessment 2021 / GRADE 3 - Islamiat

School Name (EMIS Code)														
Tehsil						District								
Student Name											Section			
Roll Number												Date		

## General Instructions for Students:

عمومی ہدایات:

- (1) Use mask and keep 3 feet distance from each other.
- (2) Read carefully and attempt all questions.
- (3) Encircle the correct option of each of Multiple Choice Questions (MCQs) as shown in the example given below.

ماسک کا استعمال کریں اور 3 فٹ کا فاصلہ رکھیے۔

غور سے پڑھیں اور ہر سوال کا جواب دیں۔

ہر کثیر الانتخابی سوال کے صحیح جواب پر دائرہ لگائیں جیسا کہ نیچے دی گئی مثال میں دکھایا گیا ہے۔

## Example: How many Salah are obligatory for Muslims in a day?

مسلمانوں پر روزانہ کتنی نمازیں فرض ہیں؟

- (a) three تین (b) four چار (c) five پانچ (d) six چھ

- (4) If more than one options are encircled in a question, no mark will be given.

اگر کسی سوال میں ایک سے زیادہ جوابات کے گرد دائرہ لگایا گیا تو کوئی نمبر نہیں دیا جائے گا۔

Total Marks: 30

(Multiple Choice Questions)

Total Time: 45 Minutes

**Instructions:** Fifteen (15) Multiple Choice Questions (MCQs) are given in this paper. Each question carries two marks.

ہدایات: اس پیپر میں پندرہ (15) کثیر الانتخابی سوالات دیے گئے ہیں۔ ہر سوال کے 2 نمبر ہیں۔

- (B) مکہ مکرمہ میں Makkah Mukarama  
(C) جدہ میں Jaddah (D) طائف میں Taif  
5. حضرت خدیجہ رضی اللہ تعالیٰ عنہا ایک نہایت مالدار خاتون تھیں:  
Hazrat Khadija رضی اللہ تعالیٰ عنہا was a very rich woman of:  
(A) طائف کی Taif (B) جدہ کی Jaddah  
(C) مکہ کی Makkah (D) مدینہ کی Madina  
6. The cave of Hira is situated in: غارِ ادرع ہے:  
(A) جبلِ نور میں Jabal-e-Noor  
(B) جبلِ احد میں Jabal-e-Uhad  
(C) جبلِ ثور میں Jabal-e-Thor  
(D) جبلِ طور میں Jabal-e-Toor  
7. ایسا امانت دار جو کبھی خیانت نہ کرے اسے کہتے ہیں:  
A trustworthy man who never shows dishonesty is known as:  
(A) صادق truthful (B) شریف pious  
(C) امین honest (D) نذیر (Nazeer) scary  
8. سکول میں دوسرے طلباء کے ساتھ اچھے طریقے سے پیش آنا کہلاتا ہے:  
Treating in a good manner with other students in school is called:

1. سورۃ اخلاص میں وضاحت کی گئی ہے:

It has been explained in Surah Ikhlas:

- (A) توحید کی Risalat (B) Oneness of Allah  
(C) عبادت کی worship (D) آخرت کی hereafter  
2. تمام انبیاء کرام علیہم السلام نے سب سے پہلے درس دیا:  
All Ambiya علیہم السلام taught first:  
(A) حج کا Hajj (B) توحید کی Oneness of Allah  
(C) جہاد کا Jihad (D) زکوٰۃ کا Zakat  
3. نماز کی ادائیگی سے منع کیا گیا ہے:  
Offering Salah is forbidden:  
(A) زوال آفتاب کے وقت at sun set  
(B) زوال آفتاب کے بعد after sunset  
(C) زوال آفتاب سے پہلے before sunset  
(D) طلوع آفتاب کے بعد after sunrise  
4. حضرت محمد رسول اللہ خاتم النبیین صلی اللہ علیہ وسلم نے:  
وَسَلَّمَ پیدائش:  
XATAMUN NABIYIN صَلَّى اللَّهُ عَلَيْهِ وَسَلَّمَ  
Hazrat Muhammad Rasoolallah was born in:  
(A) مدینہ منورہ میں Madina Munawara

# NAZRA QURAN AND RUBRICS

## SCHOOL BASED ASSESSMENT 2021 GRADE 3 ISLAMIAT PART – B (Nazra Quran)

Total Marks:20

(10) (1) حفظ: (سورۃ الفاتحہ، سورۃ النصر، سورۃ الاخلاص)

- ہدایات برائے ممتحن: ہر پے سے مذکورہ بالا سورتوں میں سے کوئی ایک سورت زبانی سنی جائے۔
1. تجوید کے اصولوں (رموز اوقاف، حروف کے مخارج، مد، غنہ اور قلقلہ) کو مد نظر رکھتے ہوئے روانی اور حروف کی درست ادائیگی کے ساتھ بلند آواز میں درج بالا نصاب میں سے کوئی ایک سورت زبانی سنانے پر 10 نمبر دیے جائیں۔
  2. پچکچا ہٹ کے ساتھ رک رک کر لیکن درست زبانی سنانے پر 9 نمبر دیے جائیں۔
  3. صرف تلفظ کی غلطیوں کے ساتھ پڑھنے کی صورت میں 5 تا 8 نمبر دیے جائیں۔
  4. تلفظ کی غلطیوں کے ساتھ ساتھ لفظی غلطیوں یا حروف حذف کرنے کی صورت میں 1 تا 4 نمبر دیے جائیں۔
  5. بالکل غلط یا نہ سنانے پر صفر نمبر دیا جائے۔

(2) حفظ وتر جمعہ: (10=5 + 5)

- (تعوذ، تسمیہ، تکبیر، کلمہ طیبہ، درود پاک، سبحان اللہ، الحمد للہ، استغفر اللہ، ماشاء اللہ؛ ان شاء اللہ)
- ہدایات برائے ممتحن: ہر پے سے درج بالا نصاب میں سے کسی دو کو ترجمہ کے ساتھ زبانی سنا جائے۔

(5 نمبر) Rubrics: برائے حفظ

1. درج بالا نصاب میں سے کسی دو کو تجوید کے اصولوں (رموز اوقاف، حروف کے مخارج، مد، غنہ، اور قلقلہ) کو مد نظر رکھتے ہوئے روانی اور حروف کی درست انداز میں ادائیگی کے ساتھ بلند آواز میں زبانی سنانے پر 5 نمبر دیے جائیں۔
2. پچکچا ہٹ کے ساتھ رک رک کر لیکن درست زبانی سنانے پر 4 نمبر دیے جائیں۔
3. صرف تلفظ کی غلطیوں کے ساتھ پڑھنے کی صورت میں 3 نمبر دیے جائیں۔
4. تلفظ کی غلطیوں کے ساتھ ساتھ لفظی غلطیوں یا حروف حذف کرنے کی صورت میں 1 تا 2 نمبر دیے جائیں۔
5. بالکل غلط یا نہ سنانے پر صفر نمبر دیا جائے۔

(5 نمبر) Rubrics: برائے ترجمہ

1. طالب علم درج بالا نصاب میں سے کسی دو کا لفظ بہ لفظ یا محاورہ درست ترجمہ زبانی سنانا ہے تو اسے 5 نمبر دیے جائیں۔
2. پچکچا ہٹ کے ساتھ رک رک کر لیکن درست زبانی سنانے پر 4 نمبر دیے جائیں۔
3. معمولی غلطیوں اور نامکمل، لیکن آدھے سے زیادہ درست ترجمہ سنانے کی صورت میں 3 نمبر دیے جائیں۔
4. لفظی غلطیوں اور آدھے سے کم درست ترجمہ سنانے پر 1 تا 2 نمبر دیے جائیں۔
5. بالکل غلط یا نہ سنانے پر صفر نمبر دیا جائے۔

(A) حسن معاملات (B) فرمانبرداری (C) مساوات (D) صبر و تحمل

9. انسان دوسروں کی زیادتیاں معاف کر دینے سے مظاہرہ کرتا ہے:

By forgiving the cruelties of others, a man demonstrates:

(A) سخاوت (B) دیانت کا (C) سادگی (D) رواداری کا

10. ہمارے ساتھیوں میں سب سے زیادہ اچھے سلوک کے حق دار ہوتے ہیں:

Among our peers, the ones who deserve the kindest treatment are:

(A) دوست (B) محلے دار (C) ہم جماعت (D) رشتہ دار

11. ایسی بات کر دینا جو اصل میں ہوئی نہ ہو، کہلاتی ہے:

Saying something which has not been happen in reality is called:

(A) چغلی (B) ریا کاری (C) خوشامد (D) جھوٹ

12. محفل میں گفتگو جاری ہو تو بات کرنے کے آداب میں سے ہے:

One of the etiquettes of speaking when the conversation is going on in a gathering is:

(A) اجازت سے بولنا (B) بلا اجازت بولنا (C) بات کے درمیان بولنا (D) زور سے بولنا

13. حضرت ابراہیم علیہ السلام پیدا ہوئے:

(A) اجازت سے بولنا (B) بلا اجازت بولنا (C) بات کے درمیان بولنا (D) زور سے بولنا

14. حضرت ابراہیم علیہ السلام پیدا ہوئے:

Hazrat Ibrahim علیہ السلام was born in:

(A) ایران میں (B) عراق میں (C) شام میں (D) یمن میں

15. حضرت ابو بکر صدیق رضی اللہ تعالیٰ عنہ کو "صدیق" کا لقب ملا:

Hazrat Abu Bakr Siddique رضی اللہ تعالیٰ عنہ was got the title of "Siddique" on:

(A) واقعہ معراج پر (B) ہجرت مدینہ پر (C) فتح مکہ پر (D) صلح حدیبیہ پر

16. حضرت ابو بکر صدیق رضی اللہ تعالیٰ عنہ نے غزوہ تبوک کے موقع پر اپنا سارا مال پیش کر کے اظہار کیا:

Hazrat Abu Bakr Siddique's resenting of all his wealth on the occasion of Ghazwa Tabuk, shows his:

(A) شجاعت کا (B) مساوات کا (C) دیانت کا (D) سخاوت کا

17. حضرت ابو بکر صدیق رضی اللہ تعالیٰ عنہ نے غزوہ تبوک کے موقع پر اپنا سارا مال پیش کر کے اظہار کیا:

Hazrat Abu Bakr Siddique's resenting of all his wealth on the occasion of Ghazwa Tabuk, shows his:

(A) شجاعت کا (B) مساوات کا (C) دیانت کا (D) سخاوت کا

18. حضرت ابو بکر صدیق رضی اللہ تعالیٰ عنہ نے غزوہ تبوک کے موقع پر اپنا سارا مال پیش کر کے اظہار کیا:

## School Based Assessment 2021 / GRADE 3 - Islamiat

School Name (EMIS Code)			
Tehsil	District		
Student Name	Section		
Roll Number		Date	

## General Instructions for Students:

عمومی ہدایات:

- (1) Use mask and keep 3 feet distance from each other.
- (2) Read carefully and attempt all questions.
- (3) Encircle the correct option of each of Multiple Choice Questions (MCQs) as shown in the example given below.

ماسک کا استعمال کریں اور 3 فٹ کا فاصلہ رکھیے۔

غور سے پڑھیں اور ہر سوال کا جواب دیں۔

ہر کثیر الانتخابی سوال کے صحیح جواب پر دائرہ لگائیں جیسا کہ نیچے دی گئی مثال میں دکھایا گیا ہے۔

## Example: How many Salah are obligatory for Muslims in a day?

مسلمانوں پر روزانہ کتنی نمازیں فرض ہیں؟

- (a) three تین (b) four چار (c) five پانچ (d) six چھ

- (4) If more than one options are encircled in a question, no mark will be given.

اگر کسی سوال میں ایک سے زیادہ جوابات کے گرد دائرہ لگایا گیا تو کوئی نمبر نہیں دیا جائے گا۔

Total Marks: 30

(Multiple Choice Questions)

Total Time: 45 Minutes

**Instructions:** Fifteen (15) Multiple Choice Questions (MCQs) are given in this paper. Each question carries two marks.

ہدایات: اس پیپر میں پندرہ (15) کثیر الانتخابی سوالات دیے گئے ہیں۔ ہر سوال کے 2 نمبر ہیں۔

4. حضرت ابوطالب کا پیشہ تھا:

The profession of Hazrat Abu Talib was:

(A) تجارت (B) کھیتی باڑی

(C) مزدوری (D) ملازمت

5. حضرت خدیجہ رضی اللہ تعالیٰ کا سامان تجارت لے کر حضرت محمد رسول اللہ خاتم النبیین صلی اللہ علیہ وعلیٰ آلہ و أصحابہ وسلم کس ملک تشریف لے گئے؟

To which country did Hazrat Muhammad

take the goods of Hazrat Khadijah Rasoolullah ﷺ and the first Nabi's name is:

(A) شام (B) عراق

(C) مصر (D) ایران

6. قریش مکہ کی اکثریت تھی:

The majority of Quraish-e-Makkah was:

(A) بت پرست (B) یہودی

(C) عیسائی (D) آگ پرست

(D) Worshipers of fire

7. The term "Sadaqat" means to:

(A) پاک کرنا (B) امانت رکھنا

(C) سچ بولنا (D) دوسروں کی مدد کرنا

1. قرآن مجید میں بہت بڑا ظلم اور گناہ کہا گیا ہے:

In the Holy Quran, it has been declared a big cruelty and a sin:

(A) چغلی کو (B) حسد کو

(C) شرک کو (D) فضول خرچی کو

2. آخری نبی حضرت محمد رسول اللہ خاتم النبیین صلی اللہ علیہ وعلیٰ آلہ و أصحابہ وسلم ہیں اور پہلے نبی علیہ السلام کا نام ہے:

The name of Last Nabi is Hazrat Muhammad

Rasoolullah ﷺ and the first Nabi's name is:

(A) حضرت موسیٰ علیہ السلام

(B) حضرت عیسیٰ علیہ السلام

(C) حضرت آدم علیہ السلام

(D) حضرت ابراہیم علیہ السلام

3. پاکستان سے خانہ کعبہ کس سمت میں موجود ہے:

Khana Kaaba is situated in which direction from Pakistan?

(A) شمال میں (B) مشرق میں

(C) جنوب میں (D) مغرب میں

# NAZRA QURAN AND RUBRICS

## SCHOOL BASED ASSESSMENT 2021 GRADE 3 ISLAMIAT PART – B (Nazra Quran)

Total Marks:20

(10) (1) حفظ: (سورۃ الفاتحہ، سورۃ النصر، سورۃ الاخلاص)

ہدایات برائے ممتحن: ہر پے سے مذکورہ بالا سورتوں میں سے کوئی ایک سورت زبانی سنی جائے۔

1. تجوید کے اصولوں (رموز اوقاف، حروف کے مخارج، مد، غنہ اور قلقلہ) کو مد نظر رکھتے

ہوئے روانی اور حروف کی درست ادائیگی کے ساتھ بلند آواز میں درج بالا نصاب میں

سے کوئی ایک سورت زبانی سنانے پر 10 نمبر دیے جائیں۔

2. ہچکچاہٹ کے ساتھ رک رک کر لیکن درست زبانی سنانے پر 9 نمبر دیے جائیں۔

3. صرف تلفظ کی غلطیوں کے ساتھ پڑھنے کی صورت میں 5 تا 8 نمبر دیے جائیں۔

4. تلفظ کی غلطیوں کے ساتھ ساتھ لفظی غلطیوں یا حروف حذف کرنے کی صورت میں 1 تا 4

نمبر دیے جائیں۔

5. بالکل غلط یا نہ سنانے پر صفر نمبر دیا جائے۔

(2) حفظ و ترجمہ: (10=5 + 5)

(تعوذ، تسمیہ، تکبیر، کلمہ طیبہ، درود پاک، سبحان اللہ، الحمد للہ، استغفر اللہ، ماشاء اللہ؛

ان شاء اللہ)

ہدایات برائے ممتحن: ہر پے سے درج بالا نصاب میں سے کسی دو کو ترجمہ کے ساتھ زبانی سنا جائے۔

(5 نمبر) Rubrics: برائے حفظ

1. درج بالا نصاب میں سے کسی دو کو تجوید کے اصولوں (رموز اوقاف، حروف کے مخارج،

مد، غنہ، اور قلقلہ) کو مد نظر رکھتے ہوئے روانی اور حروف کی درست انداز میں ادائیگی کے

ساتھ بلند آواز میں زبانی سنانے پر 5 نمبر دیے جائیں۔

2. ہچکچاہٹ کے ساتھ رک رک کر لیکن درست زبانی سنانے پر 4 نمبر دیے جائیں۔

3. صرف تلفظ کی غلطیوں کے ساتھ پڑھنے کی صورت میں 3 نمبر دیے جائیں۔

4. تلفظ کی غلطیوں کے ساتھ ساتھ لفظی غلطیوں یا حروف حذف کرنے کی صورت میں 1 تا 2

نمبر دیے جائیں۔

5. بالکل غلط یا نہ سنانے پر صفر نمبر دیا جائے۔

(5 نمبر) Rubrics: برائے ترجمہ

1. طالب علم درج بالا نصاب میں سے کسی دو کا لفظ بہ لفظ یا محاورہ درست ترجمہ زبانی سنا

ہے تو اسے 5 نمبر دیے جائیں۔

2. ہچکچاہٹ کے ساتھ رک رک کر لیکن درست زبانی سنانے پر 4 نمبر دیے جائیں۔

3. معمولی غلطیوں اور ناکمل، لیکن آدھے سے زیادہ درست ترجمہ سنانے کی صورت میں

3 نمبر دیے جائیں۔

4. لفظی غلطیوں اور آدھے سے کم درست ترجمہ سنانے پر 1 تا 2 نمبر دیے جائیں۔

5. بالکل غلط یا نہ سنانے پر صفر نمبر دیا جائے۔

8. حسن معاملات کا معنی ہے:

Good deals (Husn-e-Muamlat) means to:

(A) تجارت کا مال خریدنا buy merchandize

(B) اچھا برتاؤ کرنا behave in a good way

(C) اللہ تعالیٰ کی عبادت کرنا worship to Allah Almighty

(D) دل لگا کر پڑھنا study with full devotion

9. رواداری کی وجہ سے انسان اپنے مخالفین کے ساتھ سلوک کرتا ہے:

Due to tolerance, a man treats his opponents with:

(A) سختی کا strictness

(B) عدل کا justice

(C) احسان کا kindness

(D) بدلے کا revenge

10. ہمیں اپنے چھوٹوں سے رویہ رکھنا چاہیے:

We should treat our younger ones with:

(A) برابری کا equality

(B) فرمانبرداری کا obedience

(C) شفقت کا compassion

(D) سختی کا strictness

11. جھوٹ بولنے سے سب سے زیادہ نقصان کس کا ہوتا ہے؟

Who suffers the most from lying?

(A) لوگوں کا people

(B) گھر والوں کا own family

(C) اپنے آپ کا oneself

(D) دوستوں کا friends

12. کسی شخص کا اخلاق کا اندازہ ہوتا ہے:

Man's morals are judged by:

(A) لباس سے dress

(B) گفتگو سے conversation

(C) انداز سے style

(D) رہن سہن سے way of living

13. خلیل اللہ لقب ہے:

(A) حضرت یوسف علیہ السلام کا Hazrat Yousaf

(B) حضرت اسماعیل علیہ السلام کا Hazrat Ismail

(C) حضرت ابراہیم علیہ السلام کا Hazrat Ibrahim

(D) حضرت موسیٰ علیہ السلام کا Hazrat Musa

14. حضرت ابو بکر صدیق رضی اللہ تعالیٰ عنہ نے جن کے خلاف جہاد کیا، وہ تھے:

Hazrat Abu Bakr Siddique رضی اللہ تعالیٰ عنہ announced

Jihad against those:

(A) زکوٰۃ نہ دینے والے who do not pay Zakat

(B) روزے نہ رکھنے والے who do not observe Saom

(C) حج ادا نہ کرنے والے who do not perform Hajj

(D) نماز ادا نہ کرنے والے who do not offer Salah

15. اللہ کی رضا کے لیے کس نبی علیہ السلام نے اپنے بیٹے کی قربانی بھی پیش کر دی؟

Who, among the Ambiya علیہ السلام, offered his son's

sacrifice for the sake of Allah Almighty:

(A) حضرت داؤد علیہ السلام Hazrat Dowood

(B) حضرت موسیٰ علیہ السلام Hazrat Musa

(C) حضرت عیسیٰ علیہ السلام Hazrat Isa

(D) حضرت ابراہیم علیہ السلام Hazrat Ibrahim



## School Based Assessment 2021 / GRADE 3 - Urdu

School Name (EMIS Code)			
Tehsil	District		
Student Name	Section		
Roll Number		Date	

## عمومی ہدایات

- (1) ماسک کا استعمال کریں اور 3 فٹ کا فاصلہ رکھیے۔ (2) غور سے پڑھیں اور ہر سوال کا جواب دیں۔ (3) ہر کثیر الانتخابی سوال کے صحیح جواب پر دائرہ لگائیں جیسا کہ نیچے دی گئی مثال میں دکھایا گیا ہے۔  
مثال: چیچر کی وجہ سے پھیلنے والی بیماری ہے:
- (a) پولیو (b) خسرہ (c) کانگو (d) ڈینگی
- (4) اگر کسی سوال میں ایک سے زیادہ جوابات کے گرد دائرہ لگایا گیا تو کوئی نمبر نہیں دیا جائے گا۔

کل نمبر: 50

(کثیر الانتخابی سوالات)

وقت: 1 گھنٹہ

ہدایات: اس پیپر میں پچیس (25) کثیر الانتخابی سوالات دیے گئے ہیں۔ ہر سوال کے 2 نمبر ہیں۔

1. "تیری بساط کیا ہے؟" اس جملے میں لفظ "بساط" کے معنی ہیں:
- (a) شہرت (b) عزت (c) حیثیت (d) دولت
2. "کیا وہ گھر جا رہا ہے؟" اس جملے کا انکاری جملہ ہوگا:
- (a) ہاں! وہ گھر جا رہا ہے۔ (b) وہ گھر کیوں جا رہا ہے؟ (c) نہیں! وہ گھر نہیں جا رہا ہے۔ (d) وہ کب گھر جا رہا ہے؟
3. سوالیہ جملے کی مثال ہے:
- (a) یہ قلم میرا ہے۔ (b) وہ سکول جاتا ہے۔ (c) ہم کتابیں پڑھتے ہیں۔ (d) بستے میں کیا ہے؟
4. مندرجہ ذیل میں سے درست املا ہے:
- (a) نظارے (b) نضارے (c) نزارے (d) نزارے
5. لفظ "عمدہ" کا مترادف ہے:
- (a) اہم (b) اعلیٰ (c) عام (d) خاص
6. مندرجہ ذیل میں سے لفظ "فلک" کا مترادف ہے:
- (a) آسمان (b) ستارے (c) زمین (d) فضاء
7. مندرجہ ذیل میں سے لفظ "خطبہ" کی جمع ہے:
- (a) خطیب (b) خطاب (c) خطبات (d) خطبوں
8. لفظ "آسمان" کا متضاد ہے:
- (a) کمرہ (b) زمین (c) دیوار (d) چھت
9. لفظ "طاقت" کا متضاد ہے:
- (a) کمزوری (b) ہمت (c) جذبہ (d) فراغت
10. "احمد نے صفائی کی ہے۔" فعل ماضی کے مطابق یہ جملہ ہوگا:
- (a) احمد صفائی کر رہا ہے۔ (b) احمد نے صفائی کی تھی۔ (c) احمد صفائی کرے گا۔ (d) احمد صفائی کرتا ہے۔
11. "اُستاد نے سبق پڑھایا تھا۔" اس جملے کو فعل حال مطلق میں تبدیل کریں۔
- (a) اُستاد سبق پڑھا رہا ہے۔ (b) اُستاد سبق پڑھا چکا ہے۔ (c) اُستاد سبق پڑھائے گا۔ (d) اُستاد سبق پڑھاتا ہے۔
12. خالی جگہ درست حرف لگا کر پُر کریں۔ محسن ----- بلی خوب صورت ہے۔
- (a) کے (b) کی (c) کو (d) کا

13. خالی جگہ درست حرف لگا کر پڑھیں۔ اسلم کی گیند بڑا ----- بنی ہوئی ہے۔

(a) کا (b) میں

(c) پر (d) کی

14. مندرجہ ذیل خالی جگہ درست حرف لگا کر پڑھیں۔ احمد ----- ماموں درزی

ہے۔

(a) کے (b) کی

(c) کا (d) کو

15. درست رموز و اوقاف والا جملہ ہے:

(a) مریم نے کہا؟ آج دن بہت روشن ہے۔

(b) مریم نے کہا؛ آج دن بہت روشن ہے۔

(c) مریم نے کہا، آج دن بہت روشن ہے۔

(d) مریم نے کہا! ”آج دن بہت روشن ہے“

پیرا گراف نمبر 1: مندرجہ ذیل پیرا گراف پڑھ کر سوالات نمبر 16، 17، 18، 19 اور

20 کے جوابات دیجیے۔

عبدالستار ایڈھی صاحب ایڈھی فاؤنڈیشن کے بانی تھے۔ ان کا ادارہ لوگوں کی خدمت کے لیے بہت سے کام کرتا ہے۔ اگر کوئی بیمار ہو تو یہ ادارہ ان کو مفت ایسبولینس فراہم کرتا ہے۔

مختلف شہروں میں قائم ایڈھی سنٹرز روزانہ غریبوں کو مفت کھانا کھلاتے ہیں اور ان بچوں کا خیال رکھتے ہیں جن کے ماں باپ نہیں ہوتے۔ اگر کہیں سیلاب یا زلزلہ آجائے تو ایڈھی فاؤنڈیشن متاثرین کے لیے کیمپوں میں کھانا دیتی ہے اور ان کی ضروریات کو پورا کرتی ہے۔

16. اس پیرا گراف میں لفظ ”بانی“ سے مراد ہے:

(a) مالک (b) بنانے والا

(c) رہائشی (d) کرائے دار

17. ایڈھی فاؤنڈیشن بیماروں کو مفت ----- فراہم کرتی ہے۔

(a) رکشہ (b) موٹر سائیکل

(c) ٹرک (d) ایسبولینس

18. ایڈھی سنٹرز قائم کیے گئے:

(a) ہر گلی میں (b) مختلف شہروں میں

(c) ہر محلے میں (d) صرف کراچی میں

19. اس پیرا گراف کے مطابق ہمیں مدد کرنی چاہیے:

(a) امیروں کی (b) بادشاہوں کی

(c) ضرورت مندوں کی (d) تاجروں کی

20. ایڈھی فاؤنڈیشن کے بانی تھے:

(a) ڈاکٹر عبدالقدیر خان (b) عبدالستار ایڈھی

(c) شاہد آفریدی (d) انصار برنی

پیرا گراف نمبر 2: مندرجہ ذیل پیرا گراف پڑھ کر سوالات نمبر 21، 22، 23، 24 اور

25 کے جوابات دیجیے۔

کوئے نے واپس آ کر باقی دوستوں کو بھی بتایا تو وہ پریشان ہو گئے اور اسے بچانے کی کوئی ترکیب سوچنے لگے۔ کچھوے کو ایک ترکیب سوجھی، اس نے کوئے سے کہا کہ وقت ضائع کیے بغیر چوہے کو اپنی پیٹھ پر بٹھا کر وہاں لے جاؤ جہاں ہرن مصیبت میں پھنسا ہوا ہے تاکہ وہ اپنے دانتوں سے جال کاٹ کر ہرن کو آزاد کر والے۔

21. واپس آ کر دوستوں کو کس نے بتایا؟

(a) ہرن نے (b) چوہے نے

(c) کوئے نے (d) کچھوے نے

22. کس جانور نے ایک منصوبہ سوچا؟

(a) ہرن نے (b) چوہے نے

(c) کوئے نے (d) کچھوے نے

23. کون سا جانور مشکل میں تھا؟

(a) ہرن (b) چوہے

(c) کوئے (d) کچھوے

24. کس جانور کو جال کاٹنے کے لیے بھیجنے کا منصوبہ بنایا گیا؟

(a) ہرن (b) چوہے

(c) کوئے (d) کچھوے

25. چوہے کو جال کاٹنا تھا:

(a) دانتوں سے (b) ہاتھوں سے

(c) پاؤں سے (d) دم سے

## School Based Assessment 2021 / GRADE 3 - Urdu

School Name (EMIS Code)			
Tehsil			District
Student Name			Section
Roll Number			Date

## عمومی ہدایات

- (1) ماسک کا استعمال کریں اور 3 فٹ کا فاصلہ رکھیے۔ (2) غور سے پڑھیں اور ہر سوال کا جواب دیں۔ (3) ہر کثیر الانتخابی سوال کے صحیح جواب پر دائرہ لگائیں جیسا کہ نیچے دی گئی مثال میں دکھایا گیا ہے۔  
مثال: چیچر کی وجہ سے پھیلنے والی بیماری ہے:
- (a) پولیو (b) خسرہ (c) کانگو (d) ڈینگی
- (4) اگر کسی سوال میں ایک سے زیادہ جوابات کے گرد دائرہ لگایا گیا تو کوئی نمبر نہیں دیا جائے گا۔

کل نمبر: 50

(کثیر الانتخابی سوالات)

وقت: 1 گھنٹہ

ہدایات: اس پیپر میں پچیس (25) کثیر الانتخابی سوالات دیے گئے ہیں۔ ہر سوال کے 2 نمبر ہیں۔

1. لفظ ”آقا“ کا وضعی معنی ہے:
- (a) مالک (b) بڑا آدمی (c) نوکر (d) غلام
2. ”کیا میں کھیل رہا ہوں؟“ اس جملے کا درست اقراری جملہ ہے:
- (a) ہاں! میں کھیل رہا ہوں۔ (b) نہیں! میں نہیں کھیل رہا ہوں۔ (c) کیا میں نہیں کھیل رہا ہوں؟ (d) کیا میں کھیل رہا ہوں؟
3. درست سوالیہ نشان والا جملہ ہے:
- (a) کیا بچہ رو رہا ہے؟ (b) کیا! بچہ رو رہا ہے (c) کیا بچہ رو رہا ہے؟ (d) کیا بچہ رو رہا ہے۔
4. مندرجہ ذیل میں سے درست املا ہے:
- (a) سحرا (b) صحرا (c) صحرا (d) سحرا
5. لفظ ”مہلت“ کا مترادف ہے:
- (a) آسانی (b) خوشی (c) راضی (d) وقت
6. لفظ ”اجالا“ کا مترادف ہے:
- (a) اندھیرا (b) روشنی (c) شام (d) چھاؤں
7. املا کے لحاظ سے لفظ ”تجربہ“ کی جمع ہوگی:
- (a) تجربوں (b) تجربے (c) تجربات (d) تاجر
8. لفظ ”صحرا“ کا متضاد ہے:
- (a) ریگستان (b) باغ (c) جنگل (d) کھیت
9. لفظ ”دن“ کا متضاد ہے:
- (a) شام (b) رات (c) صبح (d) دوپہر
10. فعل ماضی کے استعمال والا جملہ ہے:
- (a) احمد خط لکھے گا۔ (b) احمد نے خط لکھا تھا۔ (c) احمد خط لکھ رہا ہے۔ (d) احمد نے خط لکھنا ہے۔
11. ”طیب لاہور جاتا ہے۔“ فعل ماضی کے مطابق یہ جملہ ہوگا:
- (a) طیب لاہور گیا تھا۔ (b) طیب لاہور جا رہا ہے۔ (c) طیب لاہور جائے گا۔ (d) طیب لاہور جا چکا ہے۔

12. خالی جگہ درست حرف لگا کر پڑھیں۔ طیب ----- گھر سب سے بڑا ہے:

(a) کے

(b) کی

(c) کو

(d) کا

13. خالی جگہ درست حرف لگا کر پڑھیں۔ اس ----- جوتے پیارے ہیں۔

(a) کا

(b) میں

(c) پر

(d) کے

14. مندرجہ ذیل خالی جگہ کے لیے درست حرف ہوگا: علی جماعت ----- سب

سے ذہین بچہ ہے۔

(a) نے

(b) کی

(c) کا

(d) کو

15. سوالیہ نشان کی علامت والا فقرہ کون سا ہے؟

(a) وہ سکول گیا۔

(b) ہم نے میچ کھیلا۔

(c) کیا آپ نے سبق یاد کیا؟

(d) وہ لاہور نہیں گیا۔

پیرا گراف نمبر 1: مندرجہ ذیل پیرا گراف پڑھ کر سوالات نمبر 16، 17، 18، 19 اور

20 کے جوابات دیجیے۔

کسی ملک میں ایک سلطان رہتا تھا۔ اس نے اپنے بیٹوں کو تین بیچ دیے اور کہا ایک سال تک

اسے اُگاؤ، جس کا پودا ہر ابھرا ہوگا وہی میرے بعد سلطان بنے گا۔ ایک سال بعد سب لڑکے

سلطان کے پاس اپنے اپنے پودے لائے۔ سب سے چھوٹا لڑکا سلیم جو دس سال کا تھا اس

کے بیچ سے کوئی پودا نہ نکلا۔ سلطان بولا: ”میں نے آپ سب کو خراب بیچ دیے تھے۔ ان سے

کوئی پودا نہیں اُگ سکتا تھا۔ صرف سلیم نے وہی بیچ اُگایا جو میں نے اُسے دیا تھا، کیونکہ وہ

ایماندار تھا۔ اب میرے بعد سلیم ہی سلطان بنے گا۔“

16. سلطان نے کتنے بیچ اپنے بیٹوں کو دیے؟

(a) دو

(b) تین

(c) چار

(d) پانچ

17. سب سے چھوٹا لڑکا تھا:

(a) سلیم

(b) اکرام

(c) علی

(d) عثمان

18. سلطان نے اپنے بیٹوں کو بیچ دیے:

(a) خراب

(b) پرانے

(c) جلے ہوئے

(d) تازہ

19. سلیم کتنے سال کا تھا؟

(a) آٹھ سال

(b) دس سال

(c) بارہ سال

(d) چودہ سال

20. سلطان سلیم کی کس عادت پر خوش ہوا؟

(a) سچ بولنے پر

(b) ایمانداری پر

(c) مدد کرنے پر

(d) خیرات کرنے پر

پیرا گراف نمبر 2: مندرجہ ذیل پیرا گراف پڑھ کر سوالات نمبر 21، 22، 23، 24 اور

25 کے جوابات دیجیے۔

چاند کی اپنی کوئی روشنی نہیں ہوتی۔ جب سورج کی روشنی اس پر پڑتی ہے تو وہ روشن ہو جاتا

ہے۔ چاند زمین کے گرد گردش کرتا ہے اور زمین سورج کے گرد گھومتی ہے۔ کبھی کبھی ایسا ہوتا

ہے کہ زمین چاند اور سورج کے درمیان میں آجاتی ہے۔ اس وجہ سے زمین کا سایہ چاند پر پڑتا

ہے۔ بالکل ایسے ہی جیسے ہمارا سایہ زمین پر پڑتا ہے۔ جب ایسا ہوتا ہے تو چاند روشن نہیں ہوتا

اور ہم کہتے ہیں کہ چاند کو گرہن لگ گیا ہے۔

21. چاند روشن دکھائی دیتا ہے:

(a) اپنی روشنی سے

(b) سورج کی روشنی سے

(c) زمین کی روشنی سے

(d) ستاروں کی روشنی سے

22. چاند گردش کرتا ہے:

(a) زمین کے

(b) سورج کے

(c) ستاروں کے

(d) آسمان کے

23. زمین کس کے گرد گھومتی ہے:

(a) چاند کے گرد

(b) سورج کے گرد

(c) ستاروں کے گرد

(d) آسمان کے گرد

24. جب زمین، چاند اور سورج کے درمیان آتی ہے تو ہم اسے ----- کہتے ہیں۔

(a) سورج گرہن

(b) چاند گرہن

(c) چاند کا درمیان میں آنا

(d) چاند اور سورج گرہن

25. ہمارا سایہ پڑتا ہے:

(a) چاند پر

(b) سورج پر

(c) ستاروں پر

(d) زمین پر